

Buona FESTA Mamma Pig!

Tanti auguri!



ARITMETICANDO con ... la simpatica famiglia PIG



La **festa della mamma** sta arrivando e Peppa e George non vedono l'ora di preparare qualcosa di speciale. Sicuramente non può mancare la torta, che dovrà essere veramente buona! Papà Pig propone di prepararla con l'aiuto dei nonni, a casa loro, così la mamma non sospetterà nulla. Peppa e George vanno al supermercato con Papà Pig per acquistare gli ingredienti. Lungo il percorso George e Peppa iniziano a bisticciare: non trovano un accordo sul tipo di torta con cui sorprendere la mamma. Papà Pig, allora, propone che ognuno faccia la propria torta. La proposta entusiasma sia Peppa sia George.

Ingredienti per la torta che preparerà Peppa:



3 dischi di pan di Spagna



2 confezioni di panna liquida



1 bottiglia di latte



1 confezione di zucchero



5 uova



3 tavolette di cioccolato




1 bastoncino di vaniglia



1 confezione di pasta di zucchero

Prima di ripondere conta con attenzione **quanti sono in tutto** gli ingredienti di questa torta. Colora il sole con il numero esatto:



Le uova sono di **più** o **di meno** delle tavolette di cioccolato?

.....
.....

Circonda, nell'elenco qui a fianco, il nome degli ingredienti con il numero più piccolo.

.....
Scrivi il nome degli ingredienti che hanno lo stesso numero:
.....
.....
.....
.....



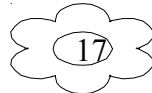

Adesso tocca a mio fratello George.
Vediamo gli ingredienti per la sua torta!



4 dischi di pan di Spagna
1 confettura di marmellata
2 cestini di fragole
1 bottiglietta di succo di ananas
1 confezione di mascarpone
5 uova
1 confezione di pasta di zucchero

Conta **quanti sono in tutto** gli ingredienti della torta preparata da George.

Colora il fiore con il risultato esatto:



Confronta il numero degli ingredienti della torta preparata da Peppa con il numero degli ingredienti della torta preparata da George.

Circonda con un colore la torta in cui ci sono **meno** ingredienti:



Usa questi simboli , che conosci già, per **confrontare** ogni coppia di numeri nel rettangolo a sinistra: > = <

19.....11

10....10

13....9

7.....18

20....17

16....3

Completa con un numero adatto:

5 è minore di.....

11 è minore di.....

20 è maggiore di.....

13 è uguale a

18 è minore di

9 è maggiore di.....

13 è minore di.....

4 è minore di

0 è uguale a

0 è minore di

10 è minore di.....

Esegui queste operazioni:

0+10=.....

15-11=.....

20+0=.....

19+1=.....

12-6=.....

9+11=.....

9+9=.....

7-7=.....

16-10=.....

14-7=.....