


Una renna...in affari!

Problemi aritmetici ragionati

Problemi a tappe



Da quando il signor Oreste si è travestito da Renna Natalizia, nel suo negozio di dolci le vendite sono aumentate giorno dopo giorno. Nella settimana che precede il Natale ha venduto **98** confezioni di torroncini al cioccolato al mattino e **63** confezioni di torroncini alle mandorle al pomeriggio. Quante confezioni di torroncino ha venduto complessivamente il signor Oreste?



PRIMA TAPPA

Leggi con attenzione il testo del problema.
Cerchia i dati con il colore rosso.
Sottolinea in colore blu la domanda.
Cerchia con un colore ogni risposta alla corrispondente domanda.
Farai un ottimo lavoro!

DI CHE COSA SI PARLA?

Di cioccolatini. Di torroncini. Di confezioni di torroncini.

CHE COSA DEVI TROVARE?

Quanti torroncini sono stati venduti a Natale.

Quante confezioni di torroncini sono state vendute in tutto.

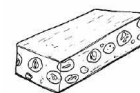
CERCHIA L' OPERAZIONE CHE DEVI ESEGUIRE:

divisione moltiplicazione addizione sottrazione

HAI SCELTO QUESTA OPERAZIONE PERCHÉ...

separa moltiplica divide unisce

SCRIVI L' OPERAZIONE IN RIGA.....



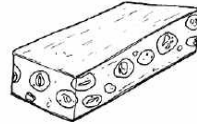
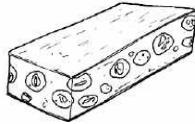
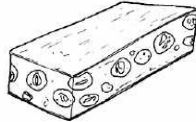
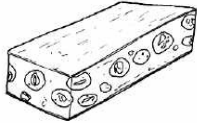

ESEGUI L' OPERAZIONE IN COLONNA:

RISPONDI COMPLETANDO

Il signor Oreste, nella settimana che precede il Natale, ha venduto complessivamente.....

SECONDA TAPPA

Quante sono, **in più**, le confezioni di torroncini al cioccolato?



PER RISPONDERE A QUESTA DOMANDA DEVI ESEGUIRE L' OPERAZIONE CHE:

divide moltiplica aggiunge toglie

IL SEGNO DI QUESTA OPERAZIONE É:

• : X -


SCRIVI L' OPERAZIONE IN RIGA:.....

ESEGUI IN COLONNA (CON LA PROVA):

RISPONDI COMPLETANDO

Le confezioni di torroncini al cioccolato sono.....

TERZA TAPPA



La moglie del signor Oreste ha decorato ogni confezione con **2** stelline argentate.

Quante stelline, in totale, sono state usate per la decorazione delle confezioni?

RISPONDI SUI PUNTINI:



Quante stelline decorano **una** confezione di torroncini?.....

Quante sono , **in tutto**, le confezioni di torroncini?
.....



PER RISPONDERE ALLA DOMANDA DELLA TERZA TAPPA, DEVI ESEGUIRE L' OPERAZIONE CHE...

unisce divide separa moltiplica

IL SEGNO DI QUESTA OPERAZIONE É:

+ X - :


SCRIVI L' OPERAZIONE IN RIGA:.....

ESEGUI IN COLONNA:

RISPONDI COMPLETANDO

La moglie del signor Oreste, per la decorazione delle confezioni di torroncini, ha usato, in totale,


QUARTA TAPPA



Con una parte dell' incasso ottenuto dalla vendita delle confezioni di torroncini alle mandorle, il signor Oreste vuole fare una donazione alla Mensa dei poveri della sua città.

Sapendo che **ogni confezione** è stata venduta al prezzo di **3 euro**, quanto denaro ha complessivamente a disposizione il signor Oreste?

LEGGI CON MOLTA ATTENZIONE IL TESTO DEL PROBLEMA.
CERCHIA con il colore rosso I DATI.
Fai attenzione al dato nascosto.
SOTTOLINEA CON IL COLORE BLU LA DOMANDA.



RISPONDI:

Quante sono le confezioni di torroncini alle mandorle?.....

A quale prezzo è stata venduta ogni confezione?.....

PER RISPONDERE ALLA DOMANDA DEL PROBLEMA DEVI ESEGUIRE

L' OPERAZIONE CHE separa unisce moltiplica divide

Scrivi l' operazione in riga:.....

Esegui in colonna:

RISPONDI COMPLETANDO

Per fare una donazione alla Mensa dei poveri della sua città, il signor Oreste può complessivamente avere a disposizione.....