




Scato Bignolo e...

le sorprese pasquali



**Cari bambini,**

come già sapete, i miei adorabili ospiti sono **8** buffi e teneri gattini, molto speciali.

Ho deciso di sorprenderli incorniciando i loro ritratti .

Ho bisogno del vostro aiuto, però, perchè voglio appenderli in ordine alfabetico ad una

parete della mia locanda **Ecco l'elenco disordinato dei loro nomi :**

**Mordillo**

**Leo**

**Sam**

**Picasso**


**Galileo**

**Pix**

**Gustavo**

**Mamao**

**Nello spazio di ogni cornice scrivete il nome di ogni gattino in ordine alfabetico**





UNO, DUE, TRE...ARLUFÒ ARLUFÌ ARLUFÈ...

LECCA LECCA E Bigné ...FIN CHE CE N'È!

( formula magica di Fata Bignola )



Cari bambini, grazie a questa formula magica riuscirete a svolgere con poca fatica e con divertimento questo esercizio e quello successivo. Allora...si parte!!!!!!!!!!!!

**CONTATE E SCRIVETE NELLA TABELLA : BASTA SEGUIRE L'ESEMPIO!**



Noi facciamo il tifo pio-pio!

NOMI	Numero delle sillabe in lettere	Numero delle vocali in lettere
MORDILLO		
GUSTAVO		
MAMAO		
LEO	UNA	DUE
PIX		
PICASSO		
GALILEO		
SAM		

- 1-Quale nome di gatto contiene una sola vocale?-----
- 2-Ci sono nomi che contengono lo stesso numero di sillabe e vocali. Quali?.....
- 3-Quale nome contiene il maggior numero di vocali?.....
- 4-Quale vocale manca in questo nome?.....




Gli **8** amici baffuti sono molto golosi .  
 Per questo la **Fata** ha pensato di fare una  
 piccola decorazione all'angolo di ogni  
 cornice, usando degli ovetti colorati,  
 ma...**ha ancora bisogno del vostro aiuto.**



*Siete pronti per ripartire?*

**Problemi guidati: dal testo alle immagini e alle risposte**



Ogni bollino corrisponde ad un uovo

**Fata Bignola** ha acquistato **4** cestini di ovetti colorati.

**Ogni** cestino contiene lo stesso numero di ovetti.

**Quanti ovetti contiene 1 cestino?**

**Fata Bignola vuole sapere il numero totale di ovetti che ha acquistato.**

Colora il rettangolo che contiene l'operazione giusta che deve eseguire

DIVISIONE

MOLTIPLICAZIONE

scrivi l'operazione in riga:


.....  
 esegui l'operazione in colonna:

**RISPONDI**

**Quanti ovetti ha acquistato complessivamente Fata Bignola?**

.....  
 .....  
 .....  
 .....





**Fata Bignola** vuole usare un numero uguale di ovetti per **ogni** cornice da decorare.

Quante sono le cornici da decorare?                      7                      10                      8

Quanti ovetti in totale ha a disposizione?            48                      52                      62

Per distribuire in parti uguali gli ovetti, **quale operazione deve eseguire Fata Bignola?**

Circonda quella corretta:                      x                      -                      :                      +

**Quale nome ha questa operazione?**

Sottrazione                      divisione                      addizione                      moltiplicazione

**Scrivi l'operazione in riga:**

.....

Esegui l'operazione in colonna:

Il risultato che hai ottenuto si chiama :


Resto o differenza                      quoto                      somma o totale                      quoziente

**RISPONDI:**

**Quanti ovetti userà Fata Bignola per ogni decorazione?**

.....

**Avanzerà qualche ovetto anche per lei?    Sì                      No**



GRAZIE per l'aiuto!  
A presto!

